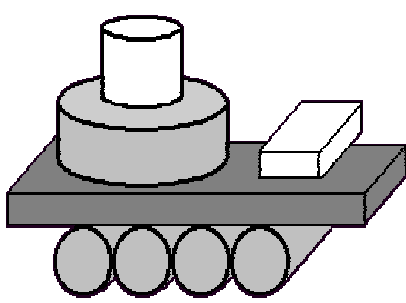



____年 ____組 ____番 名前_____


(1 学期)



→

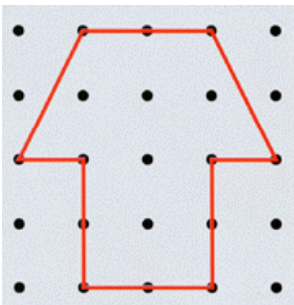


の かたちと
にているのは
いくつ ありますか。




の かたちと
にているのは
いくつ ありますか。

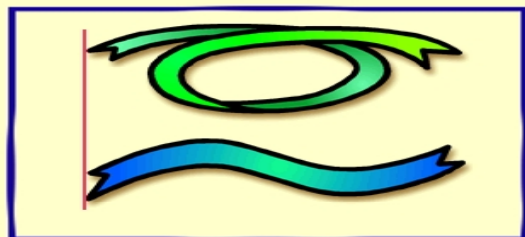
(2 学期)



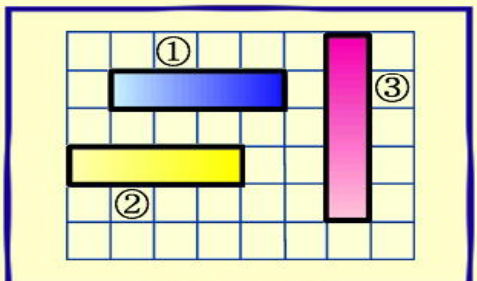
→



おなじ ^{かたち}形を
かきましょう。



ながい ほうに まるを
かきましょう。




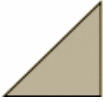
いちばん ながい ものの ばんご
うを かきましょう。

算数 図形・表・グラフ・単位テスト ステップ2 2年生

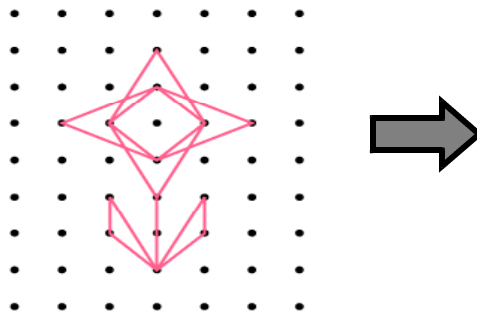
年 組 番 名前

(1 学期)



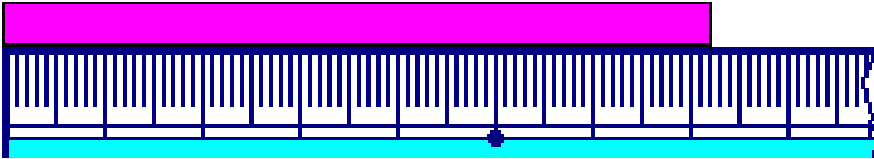


と おなじ かたちの いろ
いたは なんまい つかって
ありますか。




おなじ ^{かたち} 形を
かきましょう。

リボンの ながさは なんcmなんmmでしょう。



わなげを しました。 はいったら はずれたら×を つけました。
はいった かずを ひょうに かきましょう。

なまえ	1	2	3	4
まさお	○	○	○	×
ゆうじ	×	○	×	○
たけし	×	○	×	×
ゆりこ	○	○	×	×
なおみ	○	×	×	○

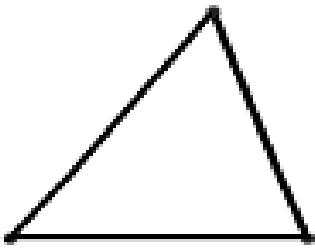
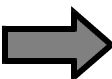



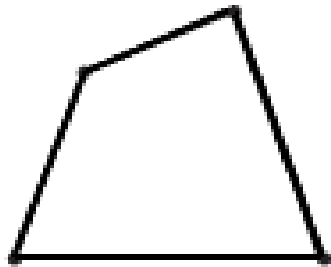
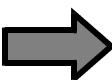

なまえ	はいった かず	はずれた かず
まさお		
ゆうじ		
たけし		
ゆりこ		
なおみ		

算数 図形・表・グラフ・単位テスト ステップ2 2年生

年 組 番 名前

(2 学期)

  3本の^{ほん}直線^{ちよくせん}で かこまれて いる
かたち^{かたち}の 形を  といいます。

  4本の^{ほん}直線^{ちよくせん}で かこまれて いる
かたち^{かたち}の 形を  といいます。

(3 学期)

はば 90cm , ながさ 1 m80cm の マット が あり
ます。 下の ように , マットを ならべると , と
の ながさは どれだけに なるでしょう。

