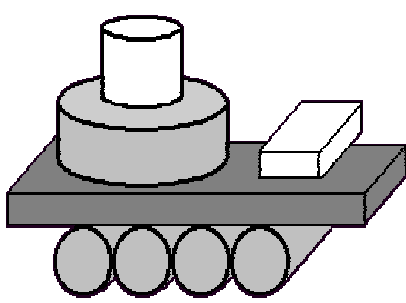


\_\_\_\_年 \_\_\_\_組 \_\_\_\_番 名前\_\_\_\_\_

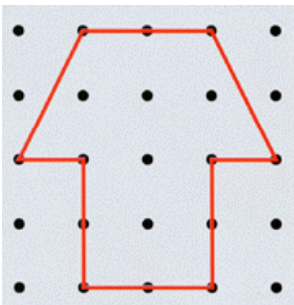
( 1 学期 )




の かたちと  
にているのは  
いくつ ありますか。

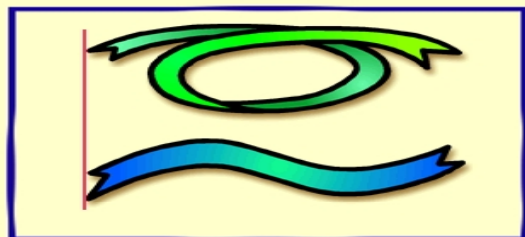
の かたちと  
にているのは  
いくつ ありますか。

( 2 学期 )

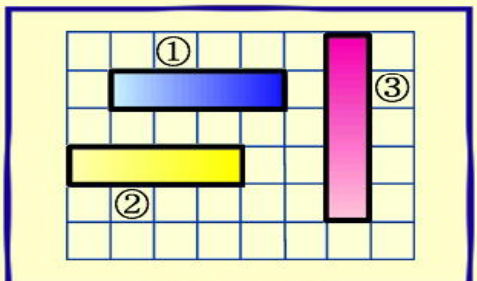


おなじ <sup>かたち</sup>形を  
かきましょう。





ながい ほうに まるを  
かきましょう。



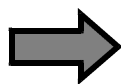
いちばん ながい ものの ばんご  
うを かきましょう。

# 算数 図形・表・グラフ・単位テスト ステップ2 2年生

(1学期)

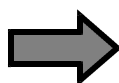
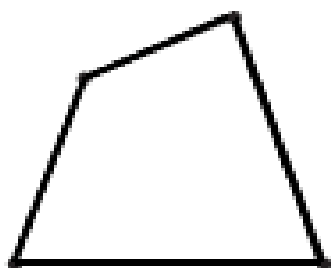
わなげを しました。 はいったら はずれたら×を つけました。  
はいった かずを ひょうに かきましょう。

なまえ	1	2	3	4
まさお	○	○	○	×
ゆうじ	×	○	×	○
たけし	×	○	×	×
ゆりこ	○	○	×	×
なおみ	○	×	×	○



なまえ	はいった かず	はずれた かず
まさお		
ゆうじ		
たけし		
ゆりこ		
なおみ		

(2学期)



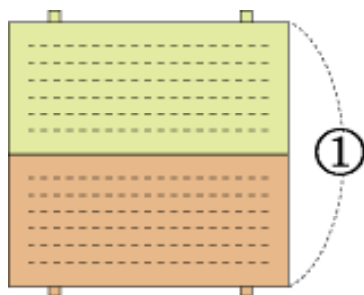
4本の <sup>ほん</sup>直線<sup>ちよくせん</sup>で かこまれて いる  
<sup>かたち</sup>形を

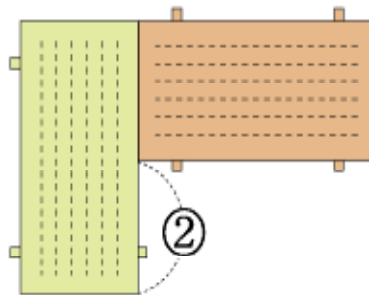


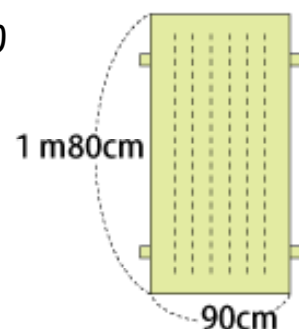
といいます。

(3学期)

はば 90cm , ながさ 1 m80cm の マットが あり  
ます。 下の ように , マットを ならべると , と  
の ながさは どれだけに なるでしょう。









算数 図形・表・グラフ・単位テスト ステップ3 3年生

( 1 学期 )

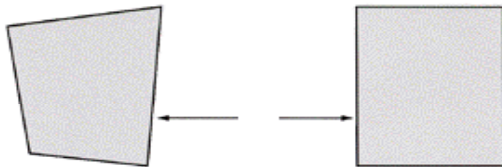
2 分 5 5 秒   秒

1    m



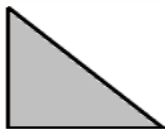
ペットボトルに おちゃは なん m  
は い っ て い る で し ょ う 。

( 2 学期 )

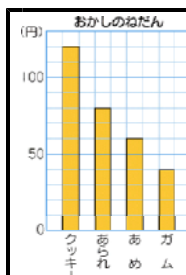


四角形で まわりの 直線を

と い い ま す 。



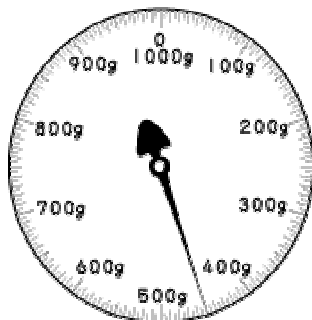
1 つ の か ど が  
直 角 に な っ て  
い る 三 角 形



グラフの名前をかき  
ましょ う 。

( 3 学期 )

はかりがさ  
しているお  
もさは？




に あ て は ま る か ず を か き ま  
し ょ う 。


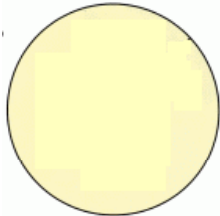
③  $1\text{kg}260\text{g} =$   g

④  $1300\text{g} =$   kg  g

算数 図形・表・グラフ・単位テスト ステップ3 4年生



年 組 番 名前

( 1 学期 )




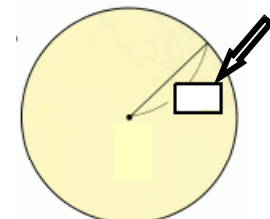
コンパスで かいた ような まるい形を

といいます。



ひだりの ずけいの まん中の 点を

といいます。



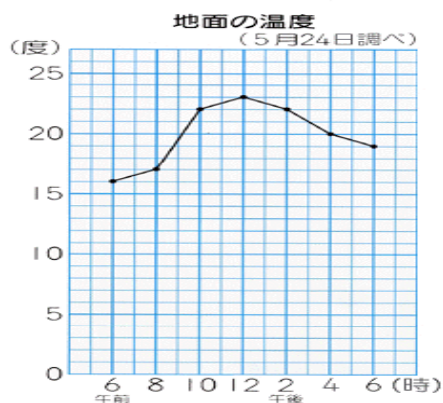
の ように まわりまでひいた<sup>ちよくせん</sup>直線を

といいます。



ボールは どこから みても まるく みえます。

このような かたちを  
といいます。

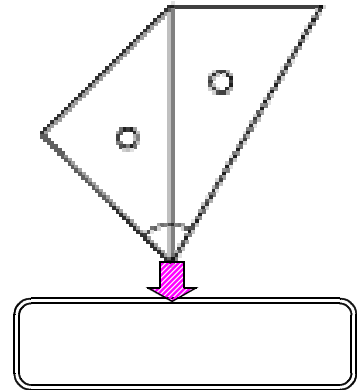
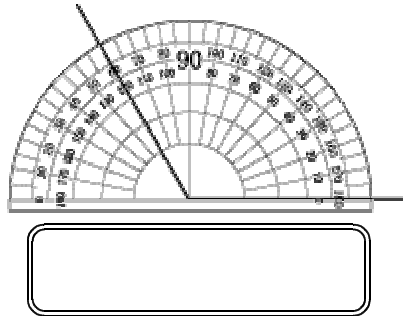
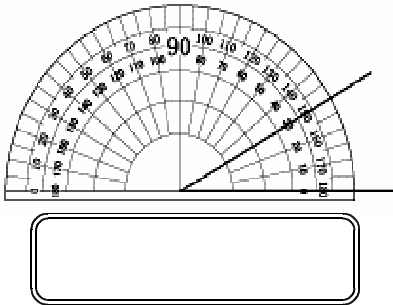


グラフの名前をかきましょう。

地面の温度がいちばん  
高いのは？

温度の変化がいちば  
ん大きいのは？

角の大きさを下のにかきましょう。



岩倉市日本語適応指導教室

算数 図形・表・グラフ・単位テスト ステップ3 4年生

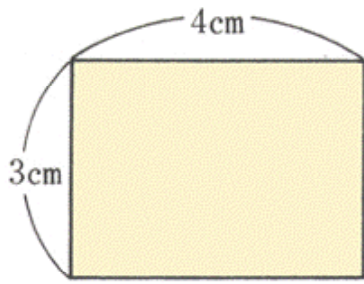
\_\_\_\_年 \_\_\_\_組 \_\_\_\_番 名前\_\_\_\_\_

( 2 学期 )

こうしき  
公式をかきましょう。

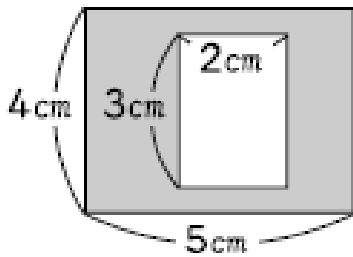
長方形の面積 =

正方形の面積 =



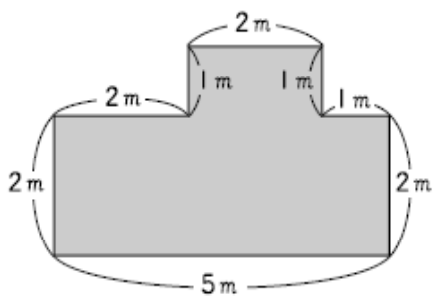
めんせき  
面積をもとめましょう。  
(しき)

(こたえ)



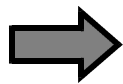
めんせき  
面積をもとめましょう。  
(しき) 色がついている部分

(こたえ)

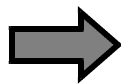


めんせき  
面積をもとめましょう。  
(しき)

(こたえ)



2つの 辺の 長さが 等しい 三角形を  
と います。



3つの 辺の 長さが みんな 等しい  
三角形を

と います。

算数 図形・表・グラフ・単位テスト ステップ3 4年生  
年 組 番 名前

( 3 学期 )

表をみて 答えましょう。

売れたおやつの記事

種類 店	スナック	クッキー	アイス	ガム	合計
ナスコ	3	2	7	2	
ローサン	2	9	1	0	
ジェスコ	7	3	9	1	
しもむら	1	4	10	6	
合計					

表の あいて  
いる ところに  
数字を かきま  
しょう。

- ・ いちばん多く売れた物は、 です。
- ・ おやつをいちばん多く売った店は  です。
- ・ しもむらで多く売れた物は  です。
- ・ スナックが たくさん売れたのは、 です。

右の 図形を 形と 色で 分け  
下の 表に まとめます。

	三角形	四角形	円	合計
白				
黒				
合計				

