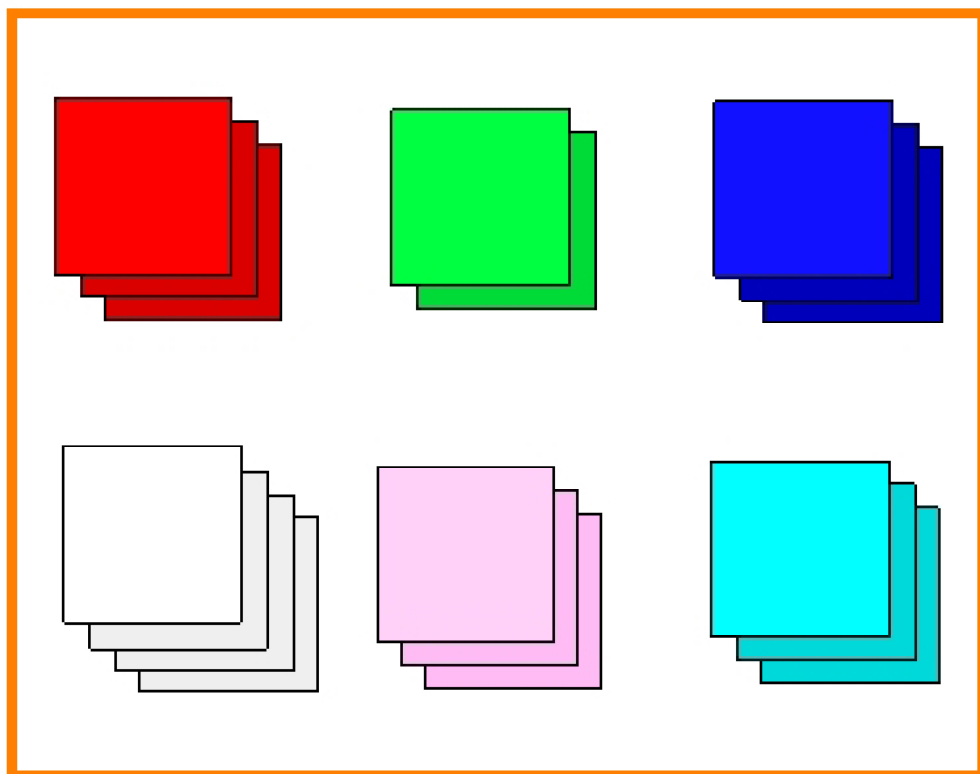


# せいのしかた

下の左の図は，3年1組にあったおり紙をならべたところです。  
色によって分け，せいりしたものを，右のように表にまとめました。




おり紙の色	まい数
赤	3
みどり	2
青	3
白	4
ピンク	3
水色	3

# きろくのせいり

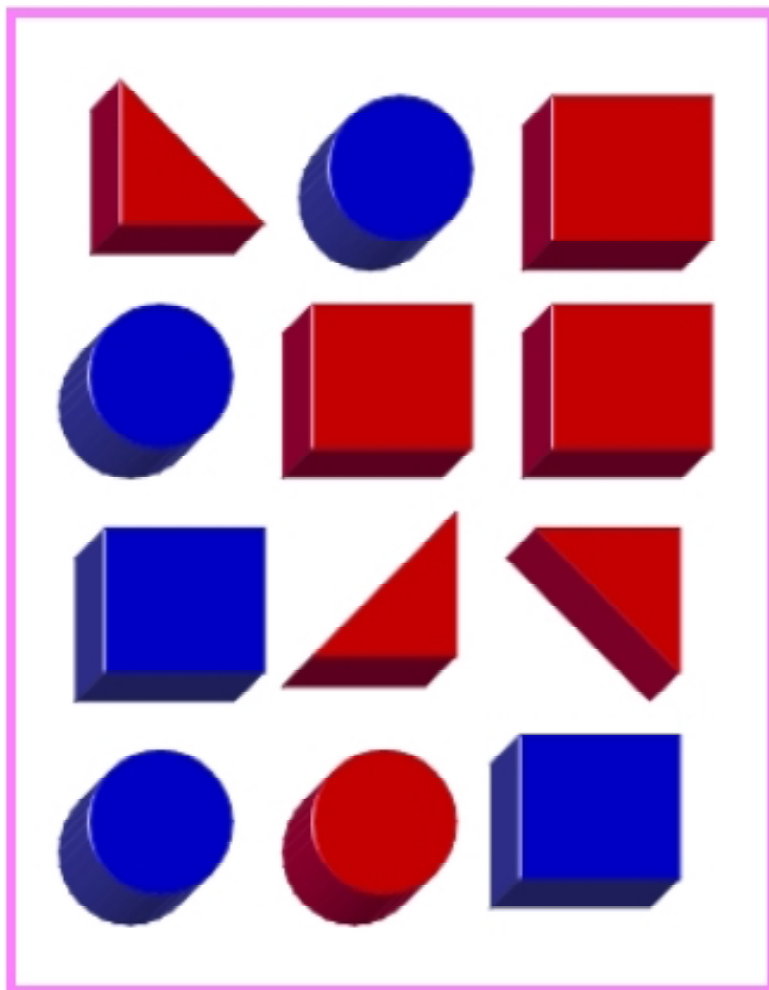
「正」の字をつかって、数字の1から10をあらわしてみます。  
記ろくなどをせいりするとき、「正」の字をつかうことがあります。

一 ↓ 1	丁 ↓ 2	下 ↓ 3	下 ↓ 4	正 ↓ 5
正一 ↓ 6	正丁 ↓ 7	正下 ↓ 8	正下 ↓ 9	正正 ↓ 10

見たことある？



# つみきのせいろ(1)



赤いつみ木の数

まるいもの	三角形	四角形	合 計
1	3	3	7


- ・上の合計の7は、**赤いつみ木ぜんぶ**の数です。

青いつみ木の数

まるいもの	三角形	四角形	合 計
3	0	2	5

- ・上の合計の5は、**青いつみ木ぜんぶ**の数です。

# つみ木のせいろ(2)



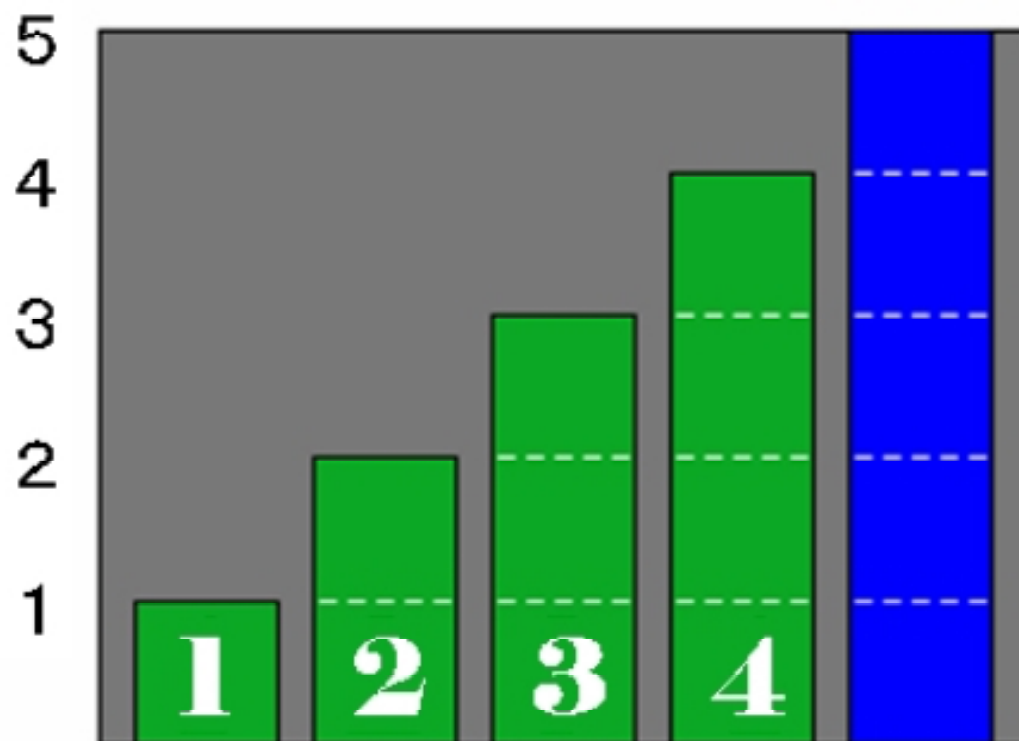
つみ木調べ

形 色	まるいもの	三角形	四角形	合 計
赤	2	1	3	6
青	2	3	1	6
合計	4	4	4	12

合計の数字をたしかめましょう。

# ぼうの長さ

ぼうの長さで大きさをあらわしてみます。



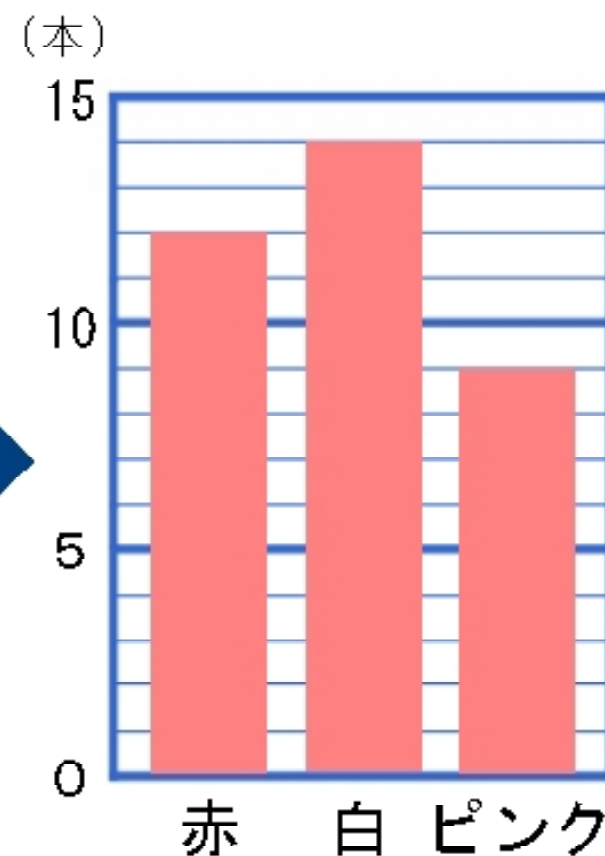
左のグラフの青いぼうは、  
長さが5ですから、5の大き  
さをあらわしています。

# 表をグラフにあらわす

下の<sup>ひょう</sup>表は、花だんの花の色を<sup>しら</sup>調べてまとめたものです。

花だんの花の色	
花の色	本数
赤	12
白	14
ピンク	9

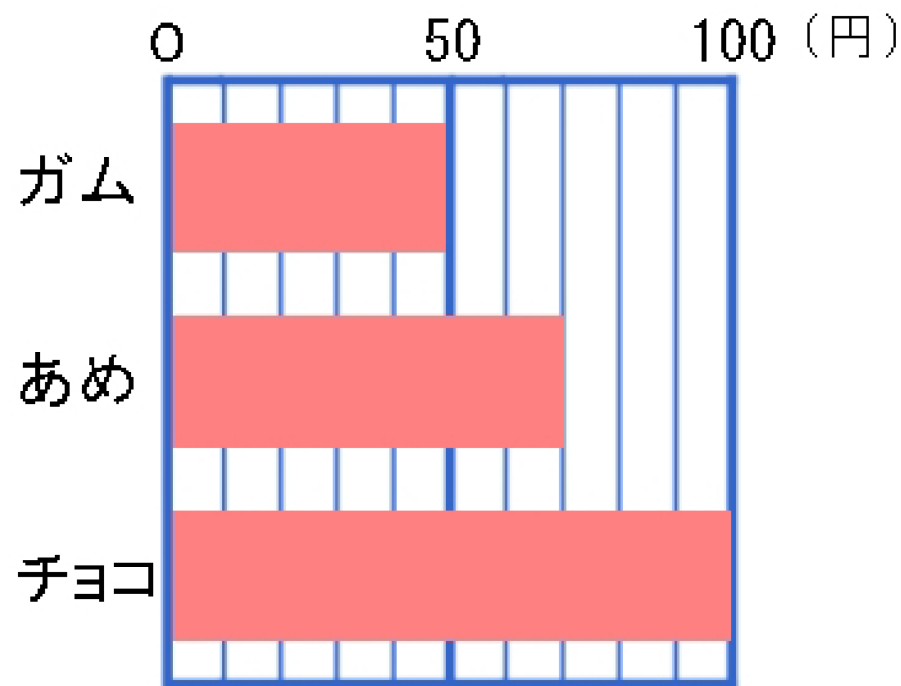
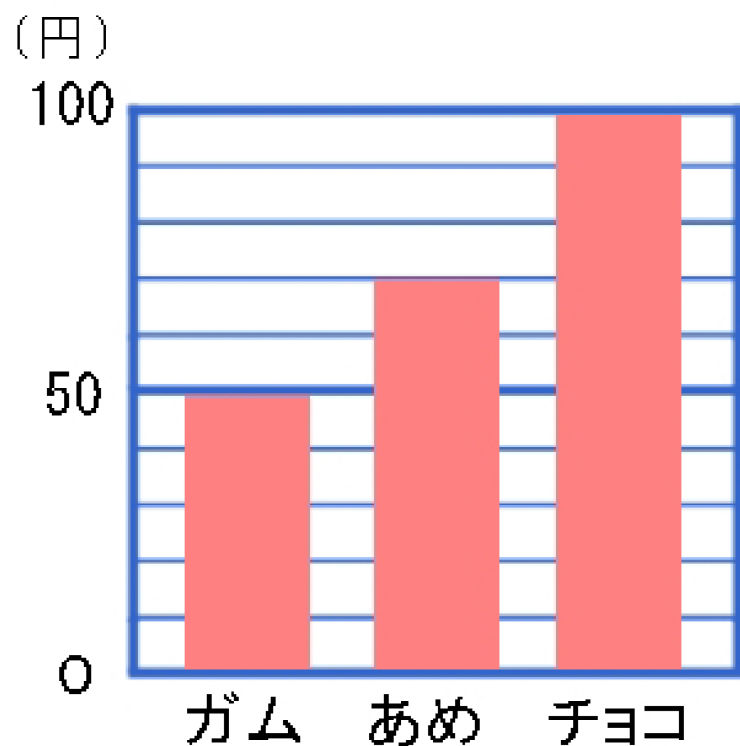
表をもとにして  
グラフにあらわす



# ぼうグラフ

ぼうの長さで大きさをあらわすグラフは、「ぼうグラフ」です。

下の2つのぼうグラフは、それぞれお菓しのねだんをあらわしたものです。




# ぼうグラフのかき方(Ⅰ)

ボールなげのきろくをもとにぼうグラフをかいてみます。

(1) たてに、いちばんとおくまで  
なげた人がかきあらわせるよう  
に、めもりとたんいをかく。

ボールなげのきろく

名 前	m
かず子	1 6
とし子	1 8
ただし	2 2
まさお	1 4
よしお	2 0






## ぼうグラフのかき方(2)

(2) よこに、なげた人の名前を  
かく。

ボールなげのきろく

名 前	m
かず子	16
とし子	18
ただし	22
まさお	14
よしお	20

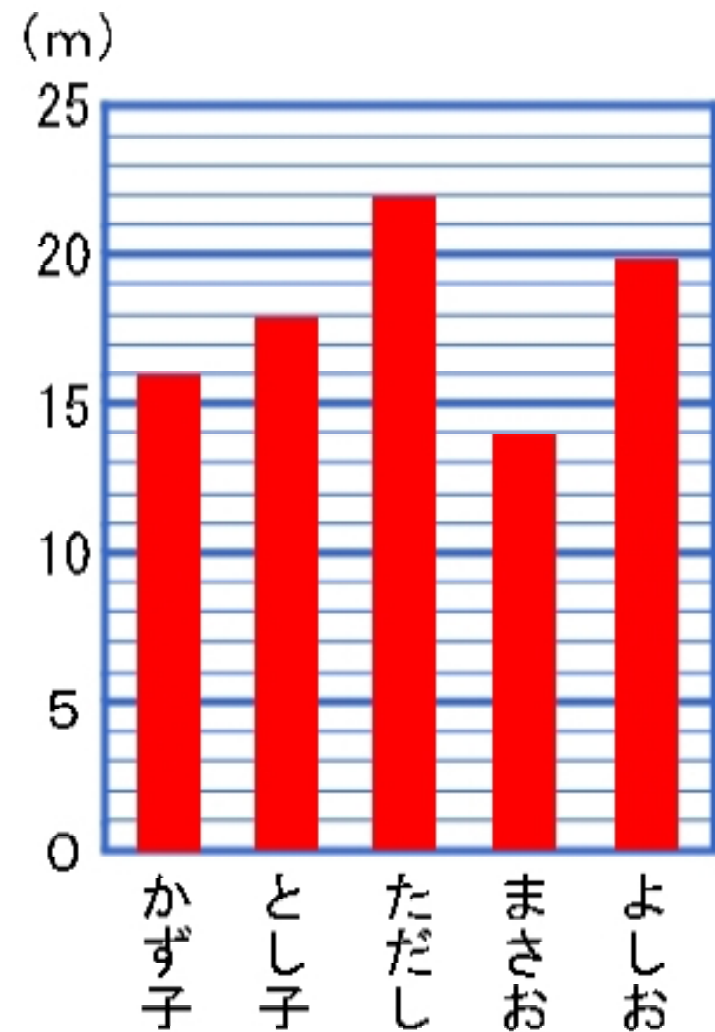


## ぼうグラフのかき方(3)

(3) なげたボールのきよりにあわせてぼうをかく。

ボールなげのきろく

名 前	m
かず子	16
とし子	18
ただし	22
まさお	14
よしお	20



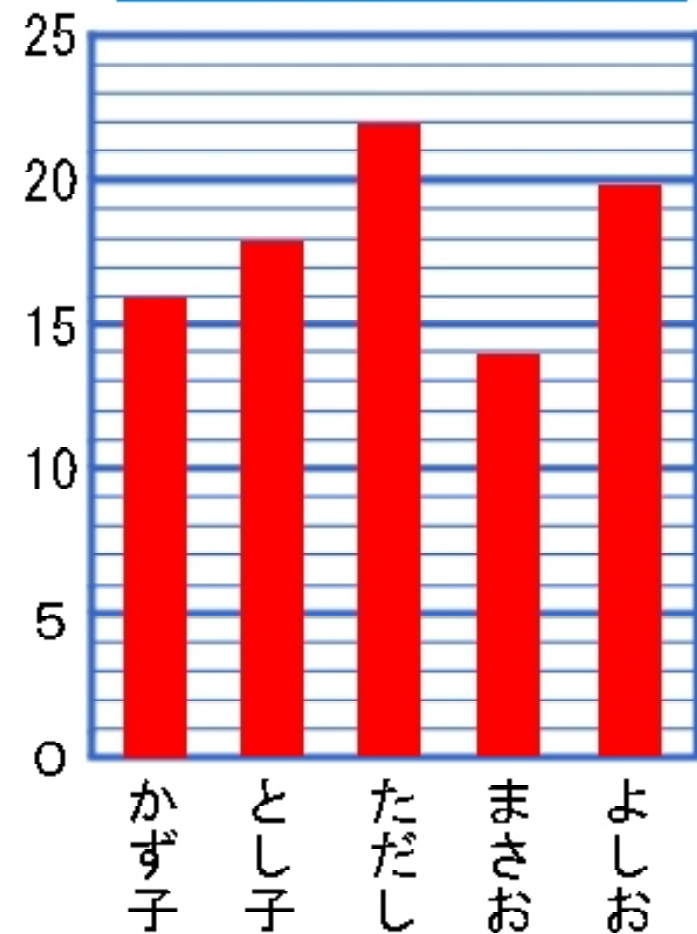
## ぼうグラフのかき方(4)

(4) ひょうだいをかく。

ボール投げのきろく

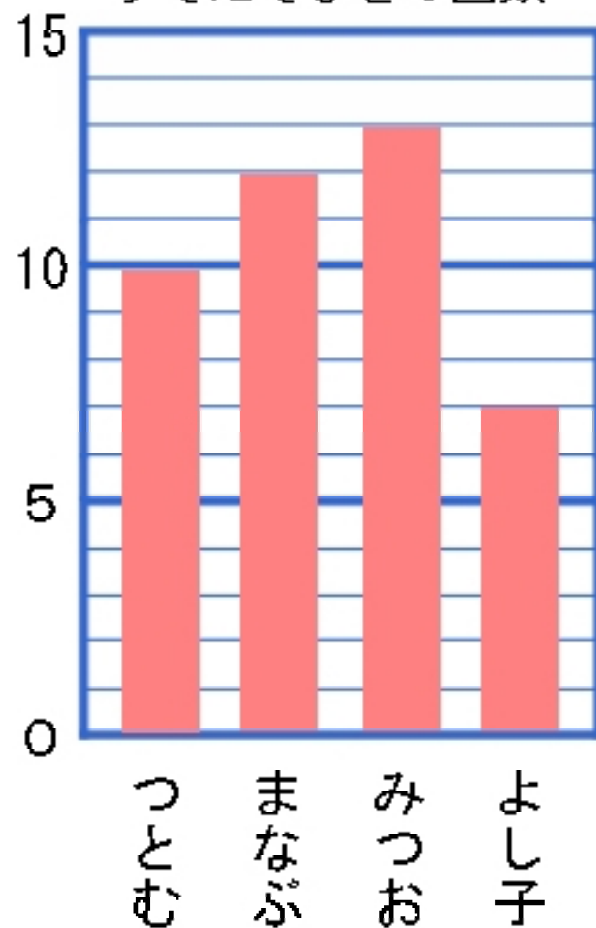
名 前	m
かず子	16
とし子	18
ただし	22
まさお	14
よしお	20

(m) ボール投げのきろく



## ぼうグラフのよみ方

(回) うでたてふせの回数



- ・ ぼうの長さは「回数」をあらわしています。
- ・ 1めもりは、1回をあらわしています。
- ・ みつおくんがいちばん多く、13回です。
- ・ よし子さんがいちばん少なく、7回です。