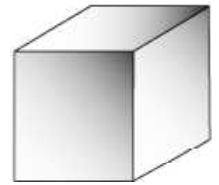
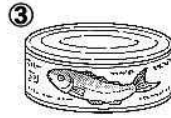


小1 算数 1学期 6月-1 いろいろな かたち なまえ

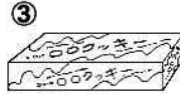
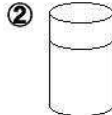
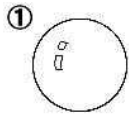
(1) みぎの かたちと おなじ かたちは どれですか。

①～③の なかから えらんで まるで かこみましょう。



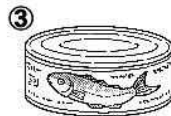
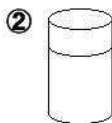
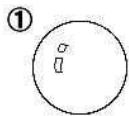
(2) みぎの かたちと おなじ かたちは どれですか。

①～③の なかから えらんで まるで かこみましょう。



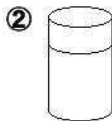
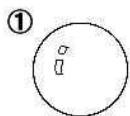
(3) みぎの かたちと おなじ かたちは どれですか。

①～③の なかから えらんで まるで かこみましょう。



(4) みぎの かたちと おなじ かたちは どれですか。

①～③の なかから えらんで まるで かこみましょう。



(5) みぎの かたちは どんな かたちですか。

①～③の なかから えらんで まるで かこみましょう。

- ① はこの かたち
- ② ぼうるの かたち
- ③ つつの かたち

