


小2 ^{さんすう}算数 1学期 ^{がつき}4月-1 ひょうとグラフ
^{なまえ}名前 _____

(1) つぎの えの どうぶつの ^{かず}数を しらべて ひょうに かきましょう。



どうぶつ	うさぎ	きつね	たぬき	いぬ
^{かず} 数(かず)				

(2) みんなに、すきな ^{きょうか}教科は なにかを きいて、グラフに あらわしました。

^{さんすう}算数が すきな 人は なん人ですか。


すきな 教科

			●
			●
	●	●	●
●	●	●	●
●	●	●	●
●	●	●	●
●	●	●	●
国語	算数	図工	体いく

(● 1 つは 1 人)

小2 算数 1学期 4月-1 ひょうとグラフ
 名前 _____


(3) えの どうぶつのかずを しらべて、ひょうにかきましょう。



どうぶつ		やぎ	うし	うま
かず	4	2	6	

(4) みんなのたん生日を しらべて、グラフに あらわしました。
 6月、7月、8月生まれの人を合わせると、なん人になりますか。

たん生日しらべ

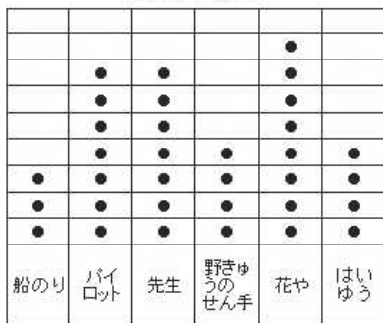


() 人

(● 1つは 1人)

(5) みんなに、大人になつたら どのな しごとにつきたいかを きいて、グラフにあらわしました。人数が いちばん 多いのは なんの しごとですか。

つきたいしごと



つきたいしごと () 人

(● 1つは 1人)